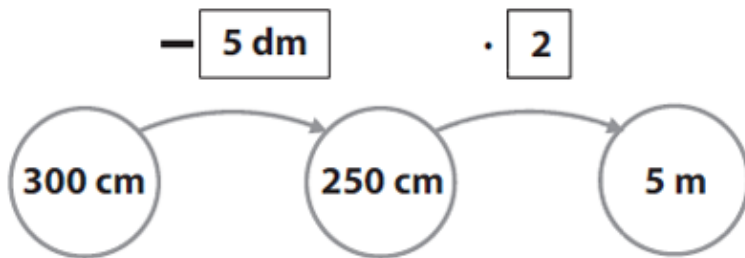


VÝCHOZÍ TEXT A OBRÁZEK K ÚLOZE 4.1

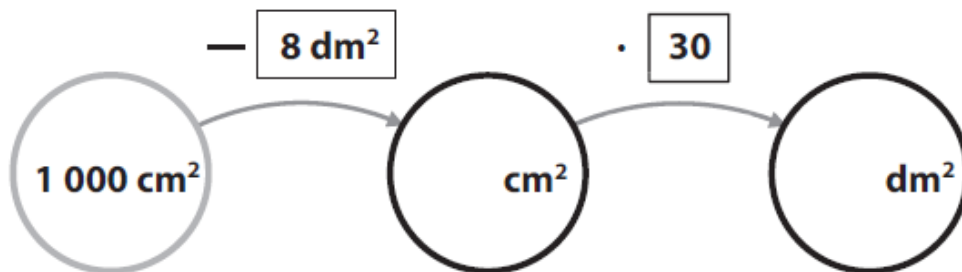
Výpočty se provádějí podle vzoru:



max. 2 body

Úloha 4.1

Doplňte do kroužků taková čísla, aby výpočty byly správné

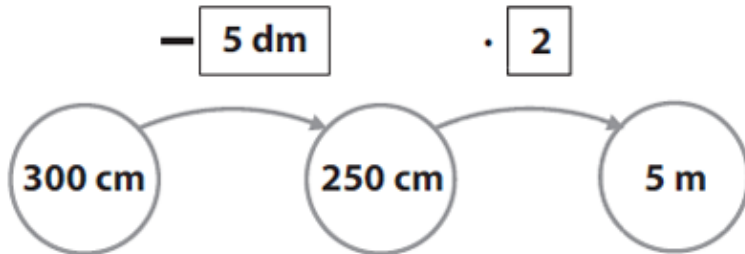


V záznamovém archu uveďte dvojici doplněných čísel i s jednotkami.

4	4.1	4.2
----------	-----	-----

VÝCHOZÍ TEXT A OBRÁZEK K ÚLOZE 4.1

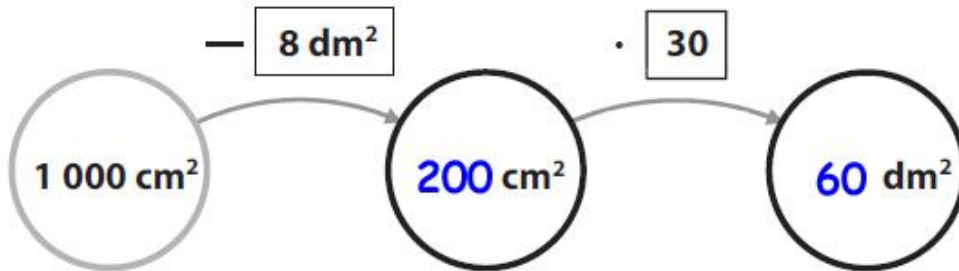
Výpočty se provádějí podle vzoru:



max. 2 body

Úloha 4.1

Doplňte do kroužků taková čísla, aby výpočty byly správné



Řešení 4.1

$$1000 \text{ cm}^2 = 10 \text{ dm}^2$$

$$10 \text{ dm}^2 - 8 \text{ dm}^2 = 2 \text{ dm}^2 = \underline{\underline{200 \text{ cm}^2}}$$

$$2 \cdot 30 = \underline{\underline{60 \text{ dm}^2}}$$

V záznamovém archu uveďte dvojici doplněných čísel i s jednotkami.

4	4.1	4.2
200 cm² ; 60 dm²		